

بسمه تعالی

اَطْبِئُوا الْعِلْمَ مِنَ الْمَهْدِ إِلَى الْمُنْتَهَى

زنگنه تا گور دانش بجوی

نام:

نام خانوادگی:

شماره داوطلب:

www.pasokh.org
۰۹۱۲-۳۵۷۱۲۰۴
گروه آموزشی مهندسی فنی
تدریس تخصصی دروس دانشگاهی
کنکور ارشد - کنکور کاردانی به کارشناسی

(دفترچه شماره ۲)

سؤالات اختصاصی آزمون کارشناسی ناپیوسته سال ۱۳۸۶

رشته حسابداری

گروه آموزشی مهندسی فنی
تدریس تخصصی دروس دانشگاهی
کنکور ارشد - کنکور کاردانی به کارشناسی
۰۹۱۲-۳۵۷۱۲۰۴
www.pasokh.org

گروه آموزشی مهندسی فنی
تدریس تخصصی دروس دانشگاهی
کنکور ارشد - کنکور کاردانی به کارشناسی
۰۹۱۲-۳۵۷۱۲۰۴
www.pasokh.org

پاسخگویی به کل سؤالات این دفترچه ۱۶۰ دقیقه است.

ردیف	مواد امتحانی	تعداد	از شماره	تا شماره
۱	ریاضیات و آمار	۲۵	۹۱	۱۱۵
۲	اصول حسابداری	۱۵	۱۱۶	۱۳۰
۳	حسابداری (صنعتی، دولتی و شرکت‌ها) و حسابرسی	۵۵	۱۳۱	۱۸۵
۴	نمازمان و مدیریت	۱۰	۱۸۶	۱۹۵
۵	اقتصاد (خرد و کلان)	۱۵	۱۹۶	۲۱۰

کد ۲۱۳۰۱

گروه آموزشی مهندسی فنی
تدریس تخصصی دروس دانشگاهی
کنکور ارشد - کنکور کاردانی به کارشناسی
۰۹۱۲-۳۵۷۱۲۰۴
www.pasokh.org

در پایان مدت مقرر بلافاصله این دفترچه را کنار صندلی خود قرار داده و سپس پرستنامه‌ای را که کنار صندلی شما قرار دارد برداشته و به آن پاسخ دهید.

قیمت (با دفترچه عمومی) ۷۰۰ تومان

ریاضیات و آمار

۹۱- اگر $f(x-1) = x^2$ باشد، $f(x)$ برابر است با:

- (۱) $x^2 - 1$ (۲) $(x-1)^2$ (۳) $x^2 + 1$ (۴) $(x+1)^2$

۹۲- مقدار حد عبارت کدام گزینه با سایر گزینه‌ها متفاوت است؟

- (۱) $\lim_{x \rightarrow 0^+} \frac{x}{x}$ (۲) $\lim_{x \rightarrow 1^-} \frac{1}{x-1}$ (۳) $\lim_{x \rightarrow 0^+} \frac{1}{x} ([x] + |x|)$ (۴) $\lim_{x \rightarrow -1} \sqrt{|x|}$

۹۳- تابع $f(x) = \begin{cases} 2x^2 - x^2 - x - 4, & x \notin \mathbb{Z} \\ -4, & x \in \mathbb{Z} \end{cases}$ در «چند نقطه» به طولهای اعداد صحیح پیوسته است؟

- (۱) ۴ (۲) ۳ (۳) ۲ (۴) ۱

۹۴- عرض نقطه تلاقی مجانب‌های منحنی تابع $y = \frac{x}{1+x}$ برابر چه عددی است؟

- (۱) ۲ (۲) ۱ (۳) -۱ (۴) صفر

۹۵- با توجه به رابطه $y^2 - xy^2 + 2x = 6$ ، مقدار مشتق x نسبت به y در نقطه $(1, 2)$ برابر چه عددی است؟

- (۱) ۴ (۲) ۳ (۳) ۲ (۴) ۱

۹۶- مقدار $\lim_{x \rightarrow 0} \frac{e^x - 1}{x}$ برابر چه عددی است؟

- (۱) صفر (۲) -۱ (۳) ۱ (۴) ۲

۹۷- حاصل عبارت $\tan(\text{Arctan } 2 + \text{Arctan } 3)$ برابر است با:

- (۱) -۱ (۲) ۵ (۳) ۱ (۴) ۶

۹۸- تابع هزینه مشترک یک کارخانه که دو نوع ماشین به تعداد x و y به‌شماره ۱۲ عدد تولید می‌کند، بصورت

$$f(x, y) = 3x^2 + 2y^2 - xy$$

- (۱) ۴ (۲) ۵ (۳) ۶ (۴) ۷

۹۹- تابع نموداری که شیب خط مماس بر آن در نقطه (x, y) برابر $2x - 2$ بوده و محور طولها را در نقطه‌ای به طول ۱ قطع نموده، به «چه صورتی» است؟

- (۱) $y = (x+2)^2$ (۲) $y = (x+1)^2$ (۳) $y = (x-2)^2$ (۴) $y = (x-1)^2$

۱۰۰- به کمک دیفرانسیل، مقدار تقریبی $\sqrt[5]{34}$ ، برابر چه عددی است؟

- (۱) ۲/۰۲۵ (۲) ۲/۰۲ (۳) ۲/۰۲۱ (۴) ۲/۰۱

۱۰۱- با توجه به ماتریس $A = \begin{bmatrix} 4 & 3 & 2 \\ 3 & 2 & 1 \\ 1 & 2 & 2 \end{bmatrix}$ ، درایه‌ی a_{11} ماتریس A^{-1} چه عددی است؟

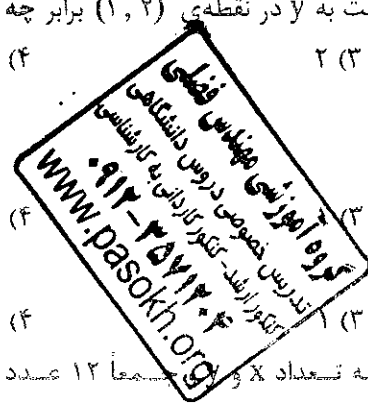
- (۱) ۴ (۲) ۳ (۳) ۲ (۴) ۱

۱۰۲- برای درمان نوعی بیماری با دو نوع قرص موجود در اندازه‌های: معمولی شامل ۳ گرم آسپیرین و ۱ گرم کدئین و بزرگ شامل

۵ گرم آسپیرین و ۱ گرم کدئین؛ در صورتی که درمان به مصرف حداقل ۱۵ گرم آسپیرین و ۴ گرم کدئین نیاز داشته باشد؛

«کدام گزینه» در مدل‌سازی ریاضی مسأله، فادرسمت است؟

- (۱) $x, y \geq 0$ (۲) $3x + 5y \geq 15$ (۳) $x + y \geq 4$ (۴) $\text{Min } F \geq x + y$



۱۰۴- از حل مسأله‌ی: $\text{Max } Z = 40x_1 + 50x_2$ به شرطی که: $x_1 + 2x_2 \leq 720$ ، $5x_1 + 4x_2 \leq 1800$ ، $x_1, x_2 \geq 0$ مقادیر $S_1 = 0$ ، $S_2 = 0$ و $S_3 = 240$ بدست آمده؛ مقدار x_2 چقدر است؟

(۱) ۱۲۰ (۲) ۳۰۰ (۳) ۴۲۰ (۴) ۶۰۰

۱۰۴- تابع هزینه نهائی تولید مؤسسه‌ای بصورت $MC = 4x^2 - 2x + 1$ و هزینه اولین واحد تولید برابر ۶ واحد پولی بوده؛ هزینه کل تولید در $x = 3$ «چند واحد پولی» است؟

(۱) ۱۸ (۲) ۴۰ (۳) ۲۶ (۴) ۸۰

۱۰۵- اگر $\bar{A}(1, -2, 2)$ و $\bar{B}(1, 2, 0)$ باشد، طول بردار \overline{AB} برابر است با:

(۱) ۳ (۲) ۴ (۳) ۵ (۴) ۶

۱۰۶- استخراج نکات کلی درباره پارامترهای جامعه، از طریق تحلیل داده‌های نمونه؛ «چه اصطلاحی»

(۱) استنباط آماری (۲) برآورد پارامترها (۳) آزمون فرضهای آماری (۴) برآورد به وسیله فاصله‌های اطمینان

۱۰۷- میانگین داده‌های: ۲، ۴، ۵، ۵، ۵، ۱۰، ۱۱ با کدام معیار دیگر این مجموعه، برابر است؟

(۱) مد (۲) دامنه (۳) میانه (۴) دامنه میان چارگی

۱۰۸- در نمونه‌ای به «چه حجم»: مجموع مجدورات داده‌ها ۶۱، میانگین ۳ و انحراف معیار ۲ (مخرج واریانس) $\pi - 1$ در نظر گرفته شده است؟

(۱) ۴ (۲) ۵ (۳) ۶ (۴) ۷

۱۰۹- تعداد کارکنان زیر دیپلم یک مؤسسه ۳۰ نفر و سهم آنان از نمودار کلوچه‌ای کارکنان مؤسسه برابر ۲۷٪ شده؛ تعداد کل کارکنان مؤسسه، «چند نفر» است؟

(۱) ۳۰۰ (۲) ۳۵۰ (۳) ۴۰۰ (۴) ۴۵۰

۱۱۰- تعداد ترتیب‌های ممکن انتخاب ۳ نفر از میان ۵ نفر، چند برابر تعداد طرق ممکن انتخاب آنان بدون هیچ ترتیبی است؟

(۱) ۲ (۲) ۶ (۳) ۱۰ (۴) ۱۵

۱۱۱- از ۱۲ عدد کالای همگن داخل جعبه‌ای، ۴ عدد معیوب بوده؛ یک مشتری ۳ عدد آنها را بطور تصادفی یکی بعد از دیگری برداشته و بررسی می‌نماید، احتمال آنکه ۲ عدد اول سالم و سومی معیوب باشد «چقدر» است؟

(۱) $\frac{28}{165}$ (۲) $\frac{4}{27}$ (۳) $\frac{28}{55}$ (۴) $\frac{4}{16}$

۱۱۲- برای توزیع احتمال متغیر تصادفی X بصورت: X | ۱ ۲ ۳ ۴
احتمال | ۰/۱۵ b ۰/۲۵ c

b و c «چه رابطه‌ای» برقرار است؟


(۱) $b \neq c$ (۲) $b < c$ (۳) $b = c$ (۴) $b > c$

۱۱۳- احتمال بروز عوارض جانبی در مقابل مصرف نوعی دارو در یک بیمار ۰/۰۰۲ بوده؛ با مصرف این دارو توسط ۵۰۰ بیمار، احتمال آنکه فقط ۲ نفرشان دچار عوارض جانبی شوند، برابر «چه عددی» است؟

(۱) $\frac{1}{2e}$ (۲) $\frac{2}{e^2}$ (۳) $\frac{2}{e}$ (۴) $\frac{1}{e^2}$

۱۱۴- افزایش حجم نمونه، موجب کاهش «کدام مورد» می‌گردد؟

(۱) متخارج عمل نمونه‌گیری (۲) صرف وقت برای عمل نمونه‌گیری (۳) متخارج عمل پردازش‌ها (۴) خطای معیار شاخص آماری



۱۱۵- بخشی از محاسبات مربوط به یک همبستگی کامل و معکوس بین مقادیر X و Y نشان داده است که: $\bar{Y} = 3$ ، $\bar{X} = 2$ و $S_{xy}^2 = S_x^2 \cdot S_y^2$ ، با فرض خطی بودن رابطه؛ معادله خط رگرسیون Y نسبت به X ، به «چه صورتی» است؟

(۱) $y = -1 + x$ (۲) $y = 5 - x$ (۳) $y = 1 - x$ (۴) $y = -5 + x$

اصول حسابداری

۱۱۶- توجه به «خصوصیات صنعت» در گزارشگری مالی، به «چه طبقه‌ای» از مفاهیم اساسی حسابداری مربوط می‌شود؟

(۱) مفروضات (۲) اصول (۳) استانداردها (۴) میثاقهای محدود کننده

۱۱۷- برخورداری اطلاعات مالی از قابلیت مقایسه، مستلزم رعایت چه مفهومی است؟

(۱) اهمیت (۲) افشا (۳) یکنواختی (۴) تداوم فعالیت

۱۱۸- مانده‌ی کدام یک از حساب‌ها، ممکن است بستانکار شود؟

(۱) بانک (۲) برداشت (۳) صندوق (۴) اسناد دریافتنی

۱۱۹- اعمال ضوابط الزامی برای انجام بموقع ثبت‌ها؛ از بروز احتمالی چه نوع اشتباهی، در مرحله ورود اطلاعات به رایانه می‌کاهد؟

(۱) مفقود شدن اطلاعات ثبت شده (۲) ثبت تکراری یا اضافی

(۳) اشتباه در مرحله وارد کردن اطلاعات از پایانه‌ها (۴) ثبت غلط یا ناقص

۱۲۰- مانده صورتحساب دریافتی از بانک در ۸/۱۸/۳۰ مبلغ ۳۰۰۰۰۰۰ ریال بدهکار بوده و پس از تطبیق آن با حساب بانک دفتر

کل مؤسسه، اقلام باز بدست آمده شامل مبلغ ۸۰۰۰۰۰۰ ریال اشتباه برداشت بانک از حساب مؤسسه و یک فقره چک معوق

به مبلغ ۴۰۰۰۰۰۰ ریال بوده؛ در این صورت، امکان صدور حداقل «چه مبلغ» چک برای مؤسسه وجود دارد؟

(۱) ۷۰۰۰۰۰۰ (۲) ۵۰۰۰۰۰۰ (۳) ۱۰۰۰۰۰۰ (۴) امکان آن وجود ندارد.

۱۲۱- ثبت کدام رویداد؛ بر مانده حسابهای دریافتنی، بی‌تأثیر است؟

(۱) فروش نسیه

(۲) حذف مطالبات سوخت شده از حسابها

(۳) وصول وجه قسمتی از مطالبات

(۴) وصول وجه مطالبات سوخت و حذف شده از حسابها در سال گذشته

۱۲۲- یکدستگاه وسیله نقلیه به بهای تمام شده ۳۰۰۰۰۰۰ ریال که با نرخ ۲۰٪ قیمت دفتری در سال مستهلک می‌شده، آغاز

سال جاری معادل مبلغ ۶۰۰۰۰۰ ریال استهلاک انباشته داشته و در اول آذر امسال بر اثر تصادف از بین رفته که چون بیمه

بوده مبلغ ۲۰۰۰۰۰۰ ریال بابت خسارت آن دریافت گردیده، زیان ناشی از حذف این دارایی از حسابها، «چند ریال» است؟

(۱) ۸۰۰۰۰۰ (۲) ۶۰۰۰۰۰ (۳) ۴۰۰۰۰۰ (۴) ۲۰۰۰۰۰

۱۲۳- در سیستم حسابداری شعب غیر متمرکز، کدام یک از عملیات فقط در دفاتر مرکز ثبت می‌شود؟

(۱) انتقال سود خالص شعبه به مرکز (۲) بستن سود شعبه به سود (زیان) مرکز


(۳) کلای ارسالی مرکز به شعبه (۴) وجه نقد ارسالی به مرکز توسط شعبه

۱۲۴- مبلغ ۲۵۰۰۰۰۰ ریال سهام خریداری شده به عنوان سرمایه‌گذاری معاملاتی؛ بعد از اعمال اقلام مربوط در تاریخ‌های

مناسب، شامل: منظور نمودن سود نگهداری معادل ۲۵۰۰۰۰ ریال، دریافت سود نقدی سهام به مبلغ ۱۵۰۰۰۰۰ ریال و در

نظر گرفتن زیان نگهداری معادل ۱۰۰۰۰۰ ریال؛ به «چه مبلغی» فروخته شده است؟

(۱) ۲۴۰۰۰۰۰ (۲) ۲۵۵۰۰۰۰ (۳) ۲۶۵۰۰۰۰ (۴) ۲۸۰۰۰۰۰



۱۳۵- در مؤسسه‌ای که تولیدات آنها بر طبق درخواست مشتریان صورت می‌گیرد؛ کارت‌های سفارش‌های مختلف، به منزله‌ی حسابهای معین کدام‌یک از حسابهای دفتر کل هستند؟

- (۱) کنترل موجودی مواد
(۲) کنترل کالای در جریان ساخت
(۳) کنترل کالای ساخته شده
(۴) بهای تمام شده کالای فروش رفته

۱۳۶- در جدول مقداری تولید یکی از دایر کارخانه‌ای برای یکدوره معین: موجودی کالای در جریان ساخت اول و آخر دوره به ترتیب ۳۰۰ واحد و ۲۵۰ واحد، واحدهای انتقالی به دایره بعد ۲۲۰۰ واحد و ضایعات که معادل ۱۰٪ واحدهای انتقالی از دایره قبل بوده، برابر « چند واحد » است؟

- (۱) ۵۰ (۲) ۸۰ (۳) ۱۳۰ (۴) ۲۵۰

۱۳۷- با توجه به اطلاعات مرحله اول تولید نوعی محصول مؤسسه‌ای در یکدوره معین: کار در جریان ساخت اول دوره ۵۰۰ واحد ۶۰٪ تکمیل، واحدهایی که اقدام به تولید آنها شده ۱۵۰۰ واحد و کار در جریان ساخت آخر دوره ۵۰٪ تکمیل؛ واحدهای تکمیل شده « چه تعدادی » بوده که عده معادل آحاد تکمیل شده به روش FIFO با آن برابر شده است؟

- (۱) ۱۲۰۰ (۲) ۱۳۰۰ (۳) ۱۴۰۰ (۴) ۱۵۰۰

۱۳۸- با توجه به اقلام حساب مرحله پایانی تولید محصول مؤسسه‌ای در یکدوره معین: کالای در جریان ساخت اول دوره ۱۰ واحد از نظر دستمزد و سربرار ۷۰٪ تکمیل به ارزش ۲۰۰۰ ریال (شامل مواد خام ۱۵۰۰ ریال و دستمزد و سربرار جمعاً ۵۰۰ ریال)، واحدهای دریافتی از مرحله قبل ۱۴۰ واحد، هزینه‌های تولید طی دوره شامل مواد خام ۲۲۵۰۰ ریال و دستمزد و سربرار جمعاً ۱۳۳۰۰ ریال، و کالای در جریان ساخت آخر دوره ۳۰۰ واحد از نظر دستمزد و سربرار ۶۰٪ تکمیل؛ بهای تمام شده محصول تکمیل شده به روش میانگین، « چند ریال » است؟

- (۱) ۳۱۰۰۰ (۲) ۳۱۲۰۰ (۳) ۳۲۰۰۰ (۴) ۳۲۱۰۰

۱۳۹- مقدار و نرخ استاندارد مواد خام برای تولید محصول یک ماه در مؤسسه‌ای به ترتیب ۳۵ واحد و ۴۰۰ ریال تعیین شده، ولی مصرف واقعی مواد ۳۲ واحد بوده که به مبلغ ۱۲۰۰۰ ریال خریداری گردیده؛ « کدام گزینه » برای ثبت اقلام آن (به روش یگانه)، نادرست محاسبه شده است؟

- (۱) انحراف مساعد نرخ مواد ۸۰۰
(۲) کنترل کالای در جریان ساخت ۱۴۰۰۰
(۳) انحراف مساعد مقدار مواد ۱۰۰۰
(۴) کنترل موجودی مواد ۱۲۰۰۰

۱۴۰- در ثبت روزنامه مربوط به هزینه دستمزد و انحرافات آن (به روش یگانه)، برای تولید محصول یکدوره معین در کارگاهی: انحراف نامساعد دستمزد ۴۰۰۰۰، انحراف مساعد کارایی دستمزد ۴۵۰۰۰ و جمع هر یک از دو طرف ثبت ۵۰۵۰۰۰ ریال بوده؛ مبلغ کدام یک از اقلام، نادرست است؟


- (۱) انحراف مساعد نرخ دستمزد ۵۰۰۰۰
(۲) دستمزد استاندارد ۴۲۰۰۰۰
(۳) انحراف نامساعد نرخ دستمزد ۸۵۰۰۰
(۴) دستمزد واقعی ۴۶۰۰۰۰


۱۴۱- در صورتی که انحرافات محاسبه شده سربرار ساخت کارخانه‌ای که از سیستم هزینه‌یابی استاندارد استفاده می‌کرده، در یکدوره معین عبارت از: انحراف کارایی سربرار متغیر ۴۰۰۰۰ ریال نامساعد، انحراف کارایی سربرار ثابت ۳۰۰۰۰ ریال مساعد، انحراف ظرفیت سربرار ۲۰۰۰۰ ریال نامساعد و انحراف هزینه سربرار ۱۰۰۰۰ ریال مساعد باشد؛ انحراف قابل کنترل سربرار، « چند ریال » است؟

- (۱) نامساعد ۲۰۰۰۰ (۲) مساعد ۱۰۰۰۰ (۳) مساعد ۴۰۰۰۰ (۴) نامساعد ۳۰۰۰۰

۱۴۲- در پایان سال مالی یک کارخانه، مانده‌های: کسر جذب سربرار ناشی از عدم دقت در محاسبه نرخهای عادی سربرار ۶۰۰۰۰ ریال، کالای در جریان ساخت ۲۰۰۰۰ ریال، کالای ساخته شده ۳۰۰۰۰ ریال و بهای تمام شده کالای فروش رفته ۵۵۰۰۰۰ ریال بوده؛ بهای تمام شده واقعی کالای فروش رفته بعد از تعدیل حسابهای مربوط، « چه مبلغی » است؟

- (۱) ۵۵۶۰۰۰ (۲) ۵۵۵۵۰۰ (۳) ۵۵۲۰۰۰ (۴) ۵۵۴۰۰۰





۱۲۵- در تاریخ معینی، بابت پرداخت بهره اوراق قرضه که بخشی از آن معوق بوده: هزینه بهره ۹۶۰۰، بهره پرداختنی ۱۸۰۰ وجه نقد ۱۱۷۰۰ و « کدام حساب و با چه مبلغی » به تناسب جهت انقضا، ثبت شده‌اند؟

- (۱) صرف اوراق قرضه پرداختنی ۳۰۰
 (۲) کسر اوراق قرضه پرداختنی ۳۹۰۰
 (۳) کسر اوراق قرضه پرداختنی ۳۰۰
 (۴) صرف اوراق قرضه پرداختنی ۳۹۰۰

۱۲۶- شرکت اصلی؛ برای تملک شرکت فرعی به روش اتحاد منافع، به « چه صورتی » عمل می‌کند؟

- (۱) خرید داراییهای شرکت فرعی
 (۲) انتشار اوراق بدهی برای تملک سهام شرکت فرعی
 (۳) خرید سهام شرکت فرعی
 (۴) انتشار سهام جدید برای تملک سهام شرکت فرعی

۱۲۷- مانده حساب مالیات پرداختنی در اول و آخر سال به ترتیب ۳۵۰'۰۰۰ و ۴۰۰'۰۰۰ ریال، و هزینه مالیات منعکس در صورت سود و زیان هفتمین سال مبلغ ۶۰۰'۰۰۰ ریال بوده؛ مالیات پرداختنی در طی سال، « چه مبلغی » است؟

- (۱) ۴۵۰'۰۰۰ (۲) ۵۵۰'۰۰۰ (۳) ۶۵۰'۰۰۰ (۴) ۷۵۰'۰۰۰

۱۲۸- تعریف وجه نقد، کدام یک از موارد را دربرنمی‌گیرد؟

- (۱) موجودی نقد
 (۲) سپرده‌های سرمایه‌گذاری کوتاه مدت بدون سررسید
 (۳) سپرده‌های دیداری نزد بانکها
 (۴) سپرده‌های سرمایه‌گذاری بلند مدت

۱۲۹- کاهش مانده حساب کدام یک از اقلام در طول دوره، خالص جریانهای نقدی حاصل از فعالیت‌های عملیاتی را کاهش می‌دهد؟

- (۱) ماشین آلات (۲) اسناد پرداختنی (۳) سهام عادی (۴) موجودی کالا

۱۳۰- برای سنجش کدام بازده؛ معمولاً سود قبل از بهره و مالیات (EBIT)، مورد استفاده قرار می‌گیرد؟

- (۱) فروش (۲) سود سهام (۳) دارائی (۴) حقوق صاحبان سهام

حسابداری (صنعتی، دولتی و شرکتها) و حسابرسی

۱۳۱- در یک مؤسسه؛ موجودیهای جنسی اول و آخر سال به ترتیب ۵۰۰'۰۰۰ ریال و ۶۰۰'۰۰۰ ریال، بهای تمام شده کلای فروش رفته ۲۷۰'۰۰۰ ریال، بهای تمام شده مواد خریداری شده ۸۰۰'۰۰۰ ریال و مواد خام تماماً بصورت مستقیم به مصرف رسیده؛ هزینه‌های تولید، « چه مبلغی » است؟

- (۱) ۱۸۰'۰۰۰ (۲) ۱۹۰'۰۰۰ (۳) ۲۰۰'۰۰۰ (۴) ۲۱۰'۰۰۰

۱۳۲- جهت ثبت لیست حقوق و دستمزد یک ماه مؤسسه‌ای در دفاتر صنعتی؛ کنترل دفاتر مالی ۱۲۳۰'۰۰۰ ریال بستانکار گردیده؛ در صورتی که مبلغ دستمزد غیر مستقیم تولیدی ۱۰۰'۰۰۰ ریال و نرخ بیمه سهم کارفرما ۲۳٪ باشد، کنترل کلای در جریان ساخت به « چه مبلغی » بدهکار شده است؟

- (۱) ۹۰۰'۰۰۰ (۲) ۱'۰۰۰'۰۰۰ (۳) ۱'۱۰۰'۰۰۰ (۴) ۱'۲۰۰'۰۰۰

۱۳۳- بهای فروش هر واحد از نوعی محصول تولیدی یک شرکت ۶۰۰ ریال و نرخ حاشیه فروش آن برابر ۳۰٪ بوده؛ با کاهش تعداد ۵۰۰ واحد از تولید محصول در هر ماه، مبلغ هزینه‌های ثابت شرکت طی دوره ۱۵۰'۰۰۰ ریال کاهش می‌یابد؛ در این صورت، سود عملیات ماهیانه ی شرکت چقدر ریال افزایش پیدا می‌کند؟

- (۱) ۴۵'۰۰۰ (۲) ۶۰'۰۰۰ (۳) ۹۰'۰۰۰ (۴) ۱۰۵'۰۰۰

۱۳۴- در یک شرکت تولیدی، روابط تسهیم متقابل هزینه‌های دوایر خدماتی (الف) و (ب) برای دایره خدماتی (الف) بصورت $X = 7153 + 26000$ و برای دایره خدماتی (ب) بصورت $Y = 31600 + 20\% X$ برقرار گردیده؛ جمع هزینه‌های دایره خدماتی (الف) پس از تسهیم‌های متقابل، برابر « چه مبلغی » است؟

- (۱) ۲۸'۰۰۰ (۲) ۴۰'۰۰۰ (۳) ۴۲'۰۰۰ (۴) ۴۵'۰۰۰

۱۴۳- هزینه‌های استاندارد هر واحد از نوعی محصول یک شرکت در دوره معینی عبارت است از: مواد مستقیم ۱۰۰، دستمزد مستقیم ۸۰، سربار متغیر ساخت ۶۰ و سربار ثابت ساخت ۴۰ (واحد: ریال)؛ بهای تمام شده استاندارد یکواحد محصول به روش هزینه‌یابی جذبی، «چند ریال» بیشتر و یا کمتر از روش هزینه‌یابی مستقیم است؟

- (۱) ۴۰ ریال بیشتر (۲) ۱۰۰ ریال کمتر (۳) ۴۰ ریال کمتر (۴) ۱۰۰ ریال بیشتر

۱۴۴- شرکتی در یکدوره معین: دو نوع محصول الف و ب به ترتیب به تعداد ۷۰۰ و ۸۰۰ واحد، با ضرایب پیچیدگی ساخت ۲ و ۳ و صرف هزینه مشترکی به مبلغ ۱۹۰۰۰۰ ریال تولید نموده؛ سهم هزینه تولید محصول ب، «چه مبلغی» است؟

- (۱) ۱۰۰۰۰۰ (۲) ۱۱۰۰۰۰۰ (۳) ۱۲۰۰۰۰۰ (۴) ۱۳۰۰۰۰۰

۱۴۵- «کدام مورد»، از اجزای بودجه عملیاتی است؟

- (۱) وجه نقد (۲) ترازنامه بودجه شده
(۳) مخارج سرمایه‌ای (۴) صورت سود و زیان بودجه شده

۱۴۶- در حسابداری دولتی، اجرای قوانین و مقررات بر تقدم دارد.

- (۱) فرض واحد پولی (۲) اصول متداول حسابداری (۳) فرض دوره مالی (۴) موازن حسابداری دولتی

۱۴۷- دستگاههای اجرایی به عنوان کارفرما در شرایط موجود؛ برای حسابداری پیمانکاری، از «چه روشی» پیروی می‌نمایند؟

- (۱) نیمه تعهدی (۲) نقدی (۳) درصد پیشرفت کار (۴) کار تکمیل شده

۱۴۸- یکی از اقلام ارزش ویژه در ترازنامه حساب مستقل عمومی هر سازمان غیر انتفاعی، کدام است؟

- (۱) مازاد تخصیص نیافته (۲) اعتبارات مصوب (۳) تعهدات قطعی نشده (۴) درآمدهای پیش‌بینی شده

۱۴۹- مانده‌ی «کدام حساب» طی اصلاح عنوان آن در پایان سال، به دوره بعد منتقل می‌گردد؟

- (۱) بانک پرداخت جاری (۲) اعتبارات مصوب (۳) علی‌الحساب سال جاری (۴) اعتبارات تخصیص یافته

۱۵۰- معادل جمع مبالغ مانده حساب‌های بانک پرداخت اختصاصی و خزانه تمرکز وجوه اختصاصی منعکس در تراز عملیات دفتر

کل پایان اسفند، «چه حسابی» در دفاتر حساب مستقل وجوه جاری، بستانکار می‌گردد؟

- (۱) درآمد عمومی (۲) اعتبارات مصوب اختصاصی

- (۳) درآمد اختصاصی (۴) جاری با خزانه - بودجه اختصاصی

۱۵۱- موجودی بانک دریافت وجوه سپرده‌ی یک سازمان دولتی در پایان سال و قبل از بستن حسابها مبلغ ۲۰۰۰ میلیون ریال بوده؛ کدام یک از ارقام مانده‌های حساب مستقل وجوه سپرده‌ی این سازمان در انتقال به دفاتر سال بعد، نادرست ثبت شده است؟

- (۱) بانک - رد وجوه سپرده ۴۰۰۰ (۲) تنخواه‌گردان رد وجوه سپرده ۴۰۰۰

- (۳) سپرده‌های دریافتی ۲۶۰۰۰ (۴) خزانه - تمرکز وجوه سپرده ۲۴۰۰۰

۱۵۲- بر کدامیک از حساب‌های مربوط به وجوه بازنشستگی، سال عالی مترتب گردیده و بصورت حساب موقت با آن برخورد می‌شود؟


- (۱) بانک پرداخت بازنشستگی (۲) پرداخت قطعی وجوه بازنشستگی

- (۳) علی‌الحساب بازنشستگان و موظفین (۴) دریافتی وجوه بازنشستگی

۱۵۳- با توجه به معادله مربوط به گروه حسابهای اوراق بهادار و مانده‌های: تنخواه گردان اوراق بهادار ۱۰۰۰۰۰۰، اوراق بهادار مصرفی ۲۰۰۰۰۰۰، مخزن اوراق بهادار ۲۰۰۰۰۰۰ (واحد: هزار ریال) در دفاتر یک ذیحسابی در پایان سال؛ حساب اداره

کل اوراق بهادار در آغاز سال بعد، به «چه مبلغی» بستانکار می‌گردد؟

- (۱) ۶۰۰۰۰۰ (۲) ۵۰۰۰۰۰۰ (۳) ۴۰۰۰۰۰۰ (۴) ۳۰۰۰۰۰۰



۱۵۴- نقل و انتقال موجودی بین انواع حسابهای مستقل و جوه، بمنظور رفع محدودیتهای نقدینگی؛ از اختیارات انحصاری کدام سازمان است؟

(۱) خزانه (۲) ذیحسابیها (۳) وزارتخانهها (۴) شرکتهای دولتی
 ۱۵۵- « کدام گزینه » به عنوان گزارش مربوط به گردش و نتیجه فعالیتهای مالی هر ماه وزارتخانه یا مؤتسسه دولتی؛ سایر گزینهها، فرمهای تشکیل دهنده آن هستند؟

(۱) تراز عملیات ماهانه
 (۲) خلاصه جوه دریافتی از خزانه و هزینههای پرداختی
 (۳) خلاصه حساب کل جوه دریافتی و پرداختی و موجودی یکماهه
 (۴) صورتحساب دریافت و پرداخت ماهانه

۱۵۶- در دفاتر فعالیتهای تضامنی به ثبت نرسیده؛ کدام یک از موارد مربوط به شرکا، به عنوان هزینه شرکت تلقی و به حساب سود و زیان منظور می‌گردد؟

(۱) پاداش (۲) بهره سرمایه (۳) حق الزحمه (۴) بهره وام
 ۱۵۷- در دفاتر واحد تجاری خانم مهرانگیز؛ مانده‌های حسابهای دریافتی ۸۰۰٬۰۰۰ ریال و ذخیره م.م ۲۰۰٬۰۰۰ ریال بستانکار بوده؛ او در زمره یکی از تأسیس کنندگان یک شرکت تضامنی، حسابهای دریافتی خود را به عنوان آورده به شرکت منتقل نموده و شرکا موافقت کرده‌اند که مبلغ ۳۰۰٬۰۰۰ ریال ذخیره برای آن منظور گردد. این حساب در دفاتر شرکت، به « چه صورتی » منعکس می‌شود؟

گروه آموزشی مهندس فطلی
 تدریس خصوصی دروس دانشگاهی
 کنکور ارشد - کنکور کارشناسی به کارشناسی
 ۰۹۱۲-۳۵۷۱۲۰۴
 www.pasokh.org

(۱) حسابهای دریافتی ۶۰۰٬۰۰۰
 (۲) حسابهای دریافتی ۸۰۰٬۰۰۰ بد / ذخیره م.م ۳۰۰٬۰۰۰ بس
 (۳) حسابهای دریافتی ۵۰۰٬۰۰۰
 (۴) حسابهای دریافتی ۶۰۰٬۰۰۰ بد / ذخیره م.م ۳۰۰٬۰۰۰ بس

۱۵۸- سرمایه‌های شرکا در یک شرکت تضامنی ۸۰۰٬۰۰۰ ریال و ۱٬۲۰۰٬۰۰۰ ریال و سود خالص شرکات یک سال فعالیت آنان معادل مبلغ ۴۲۰٬۰۰۰ ریال بوده که به ترتیب با نسبت‌های ۳ و ۴ بین ایشان تقسیم گردیده؛ با « چه نرخ بهرهای » همین مبلغ به عنوان سود تضمین شده سرمایه، نصیب هر یک از شرکا می‌شود؟

(۱) ۲۲/۵٪ و ۲۰٪ (۲) ۴۰٪ (۳) ۲۱/۲۵٪ (۴) ۶۰٪

۱۵۹- سرمایه یک شرکت تضامنی ۵۰۰٬۰۰۰ ریال بوده؛ در اول آذرماه سال جاری طبق موافقت شرکا، آرش طی واریز مبلغ ۱۵۰٬۰۰۰ ریال به حساب بانکی شرکت بابت سرمایه و با شرط ثبت سرفصلی به « چه مبلغی » به عنوان شریک جدید پذیرفته شده و نسبت او در سود و زیان شرکت $\frac{1}{6}$ تعیین گردیده است؟

(۱) ۲۰۰٬۰۰۰ (۲) ۲۵۰٬۰۰۰ (۳) ۳۰۰٬۰۰۰ (۴) ۳۵۰٬۰۰۰

۱۶۰- در شرکت تضامنی الف و ب و ج؛ نسبت‌ها به ترتیب ۲ و ۳ و ۵ و مانده حساب سرمایه ج ۶۰۰٬۰۰۰ ریال بوده؛ بر اثر تصمیم ج به خروج از شرکت، تجدید ارزیابی صورت گرفته و داراییها به مبلغ ۱٬۰۰۰٬۰۰۰ ریال کاهش یافته؛ در ضمن ناهبرده برای جلب رضایت شرکای دیگر، قبول نموده که با دریافت ۵۰۰٬۰۰۰ ریال از شرکت خارج گردد؛ ثبت این عملیات، داراییهای شرکت را « چند ریال » کاهش می‌دهد؟

(۱) ۷۰۰٬۰۰۰ (۲) ۶۵۰٬۰۰۰ (۳) ۶۰۰٬۰۰۰ (۴) ۵۵۰٬۰۰۰

۱۶۱- پس از بستن زیان تصفیه یک شرکت تضامنی، مانده‌گیری از حسابهای سرمایه‌های شرکا نشان می‌دهد که سرمایه آبان ۱۰۰٬۰۰۰ ریال بدهکار و سرمایه آذر ۴۰۰٬۰۰۰ ریال بستانکار بوده؛ در صورت ناتوانی مالی آبان، داراییهای شرکت معادل چه مبلغ از سرمایه آذر را جبران می‌نماید؟

(۱) ۲۰۰٬۰۰۰ (۲) ۳۰۰٬۰۰۰ (۳) ۴۰۰٬۰۰۰ (۴) ۵۰۰٬۰۰۰

۱۶۲- اقدام شرکت تضامنی در «چه مورد»، مستلزم جلب رضایت طلبکاران است؟

- (۱) تبدیل به شرکت سهامی (۲) ورود شریک (۳) انحلال شرکت تضامنی (۴) خروج شریک
- ۱۶۳- ثبت روزنامه‌ی: ماشین‌آلات ۷۰۰۰۰۰۰ ریال / سهام عادی ۵۰۰۰۰۰۰ و صرف سهام عادی ۲۰۰۰۰۰۰ ریال، بابت تحصیل ماشین‌آلات بر اساس انتشار سهام به قیمت هر سهم ۵۶۰ ریال صورت گرفته؛ مبلغ صرف هر سهم، «چند ریال» است؟
- (۱) ۶۰ (۲) ۱۱۰ (۳) ۱۶۰ (۴) ۲۱۰

۱۶۴- همزمان با تسویه طلب شرکت بابت فروش مبلغ ۵۰۰۰۰۰۰۰ ریال سهام بصورت ۸۰٪ نقد و باقیه تعهدی، «کدام حساب و به چه مبلغی» افزایش می‌یابد؟

- (۱) بدهی سهامداران ۱۰۰۰۰۰۰۰
(۲) سهام سرمایه پذیره نویسی شده ۵۰۰۰۰۰۰۰
(۳) تعهد صاحبان سهام ۱۰۰۰۰۰۰۰
(۴) سهام سرمایه ۵۰۰۰۰۰۰۰

۱۶۵- مزاد ارزش صدور سهام شرکتهای سهامی نسبت به ارزش اسمی آن؛ بر اثر چه تصمیمی، بصورت غیر قابل تقسیم درمی‌آید؟

- (۱) نگهداری در حساب صرف سهام (۲) صدور سهام جدید از محل آن
(۳) انتقال به حساب اندوخته (۴) توزیع نقدی بین صاحبان سهام قدیمی

۱۶۶- کدام وضعیت از سود ویژه، مبنای محاسبه اندوخته قانونی قرار می‌گیرد؟

- (۱) قبل از کسر مالیات (۲) بعد از کسر مالیات و زیانهای سنواتی
(۳) بعد از کسر زیانهای سنواتی (۴) قبل از کسر مالیات و زیانهای سنواتی

۱۶۷- حقوق صاحبان سهام یک شرکت در پایان سال ۸۵ شامل ۲۰۰۰ سهم عادی ۵۰۰۰ ریالی، ۱۰۰۰ سهم ممتاز ۶٪ جمع شونده ۱۰۰۰۰۰ ریالی، صرف سهام عادی ۲۰۰۰۰۰۰ ریال و زیان انباشته ۵۰۰۰۰۰۰ ریال بوده و سود سهام ممتاز سالهای ۸۴ و ۸۵ پرداخت نگردیده؛ ارزش دفتری هر سهم عادی، «چند ریال» است؟

- (۱) ۵۱۵۰ (۲) ۵۶۵۰ (۳) ۵۷۵۰ (۴) ۶۲۵۰

۱۶۸- در صورت از دست رفتن نصف سرمایه شرکتهای سهامی ایرانی بر اثر زیانهای وارده؛ مجمع عمومی، مجاز به انتخاب چه تصمیمی نیست؟

- (۱) کاهش سرمایه (۲) انتشار سهام جدید (۳) انحلال شرکت (۴) بازخرید سهام شرکت

۱۶۹- در «چه نوع شرکتی» سرمایه تغییر بوده و بدون تصویب مجمع عمومی کم و زیاد می‌شود و اندوخته قانونی بعد از انحلال شرکت، غیر قابل تقسیم است؟

- (۱) تعاونی (۲) سهامی خاص (۳) با مسئولیت محدود (۴) سهامی عام

۱۷۰- حساب صندوق تعاون، در دفاتر شرکت، دارای «چه ماهیتی» است؟

- (۱) دارایی (۲) بدهی (۳) هزینه (۴) درآمد

۱۷۱- برای بیان مفهوم فرایند یافتن موارد مشابه یا شباهت بین اقلام خفای در صورتهای مالی نوسال متوالی، از «چه اصطلاحی» استفاده می‌شود؟

- (۱) تطبیق (۲) محاسبه مجدد (۳) مقایسه (۴) تجزیه و تحلیل

۱۷۲- اعمال مراقبت‌های تخصصی و حرفه‌ای در انجام رسیدگی و تهیه گزارش توسط حسابرس، مربوط به «کدام استانداردهای حسابرسی» است؟

- (۱) عمومی (۲) اجرای عملیات (۳) گزارشگری (۴) تعاون فعالیت

۱۷۳- «حسابرس» در صورت اطلاع از اعمال غیر قانونی صاحبکاری که حاضر به اصلاح آن اعمال نشود، «کدام گزینه» را می‌تواند انتخاب نماید؟

- (۲) گزارش به نهادهای دولتی
(۴) گزارش به نهادهای ذیصلاح عمومی

گروه آموزشی مهندسی فضلی
تدریس خصوصی دروس دانشگاهی
کنکور ارشد - کنکور کارشناسی به کارشناسی
۰۹۱۲-۳۵۷۱۳۰۴
www.pasokh.org

- (۱) آگاه ساختن دیگران
(۳) کناره‌گیری از کار

گروه آموزشی مهندسی فضای
مدرس خصوصی دروس دانشگاهی
کنکور ارشد - کنکور کارشناسی به کارشناسی
۰۹۱۲-۳۵۷۱۲۰۴
www.pasokh.org

۱۷۴- اتکای حسابرس به تکنیک نمونه‌گیری؛ بستگی به « کدام مورد » از مدارک صاحبکار، دارد؟

- (۱) آیین‌نامه‌ها
- (۲) سیستم کنترل داخلی مناسب
- (۳) صورتهای مالی
- (۴) اسناد و مدارک حسابداری

۱۷۵- انجام چه کاری، خارج از وظایف حسابرس است؟

- (۱) پیش‌نویس تعدیلات
- (۲) اطمینان از تصویب صحیح معاملات
- (۳) یافتن ثبت‌های غیر عادی
- (۴) کنترل جمع عمودی ستونهای روزنامه عمومی

۱۷۶- از نظر تقسیم مسؤولیتها، پاسخگویی به « کدام وظیفه », ویژه سیستم حسابداری است؟

- (۱) طرحریزی بودجه نقدی
- (۲) اعطای اعتبار به مشتریان
- (۳) دریافت و پرداخت وجوه
- (۴) پیش‌بینی مالی شامل جزئیات بودجه عملیات

۱۷۷- بمنظور حصول اطمینان حسابرس نسبت به انعکاس صحیح معاملات در صورتهای مالی، مسیر رسیدگی « چگونه » انتخاب می‌شود؟

- (۱) از ارقام صورتهای مالی به مدارک اولیه هر معامله
 - (۲) با محاسبه مجدد اقلام
 - (۳) از مدارک اولیه معاملاتی خاص تا ارقام آنها در صورتهای مالی
 - (۴) با تهیه مدارک از منابعی جدا از حیطه اختیارات صاحبکار
- ۱۷۸- رسیدگیهای « کدام مورد »؛ بمنظور بهسازی عملیات و افزایش کارائی مدیریت واحد تجاری، صورت می‌گیرد؟
- (۱) بازرس قانونی
 - (۲) حسابرس داخلی
 - (۳) ممیز مالیاتی
 - (۴) حسابرس مستقل

۱۷۹- صحت اطلاعات دریافتی راجع به کنترل داخلی؛ بعد از تهیهی « کدام مورد », آزمایش می‌شود؟

- (۱) پرسشنامه کنترل داخلی
- (۲) نمودار گردش عملیات سیستم
- (۳) شرح کتبی از کنترل داخلی
- (۴) کاربرگهای تشریح سیستم کنترل داخلی

۱۸۰- وجود کدام مورد، تهیه مدارک بیشتری را توسط حسابرس به عنوان مدارک کافی ایجاب می‌کند؟

- (۱) کنترل داخلی قوی
- (۲) تحصیل بدون واسطه مدارک
- (۳) خطر عدم کشف اشتباهات با اهمیت
- (۴) تحصیل مدارک از منابع مستقل از صاحبکار

۱۸۱- « کدام گزینه » را می‌توان در حسابرسی ضمنی انجام داد؟

- (۱) مطالعه و بررسی کنترلهای داخلی
- (۲) دریافت تأییدیه بابت مانده‌های پایان سال
- (۳) تحقیق در مورد تعیقات ثبت نشده
- (۴) انجام آزمون تفکیک، مقطع زمانی از معاملات

۱۸۲- « چه نوع کاربرگهایی » را در صورت لزوم، تبدیل می‌نمایند؛ بدون آنکه نیازی به تهیه کاربرگهای جدید در مورد آنها باشد؟

- (۱) اصلی
- (۲) پرونده دائمی
- (۳) فرعی
- (۴) پرونده جاری

۱۸۳- آزمون رعایت از معاملات و موجودی‌های نقدی، شامل کدام مورد می‌گردد؟

- (۱) دریافت تأییدیه بانکی
- (۲) شمارش موجودی‌های نقدی در تاریخ ترازنامه
- (۳) دریافت صورت‌های بانکی تاریخ ترازنامه از صاحبکار
- (۴) بررسی دریافت رسید توسط پرداخت کنندگان وجوه

۱۸۴- بند حدود رسیدگی گزارش حسابرسی؛ به رسیدگی نسبت به « کدام مورد », اشاره‌ای ندارد؟

- (۱) اساسنامه و کنترلهای داخلی
- (۲) صورت سود و زیان انباشته
- (۳) ترازنامه و صورت‌تسلیب سود و زیان
- (۴) صورت تشریحات در وضعیت مالی

۱۸۵- ایجاد محدودیت قابل توجه در حدود رسیدگی حسابرس، موجب ارائهی « چه نوع گزارشی » می‌گردد؟

- (۱) محدود
- (۲) عدم اظهارنظر
- (۳) مشروط
- (۴) کیفیت کنترلهای داخلی

سازمان و مدیریت

- ۱۸۶- « کدام عنصر » بیش از آنکه یک وظیفه مدیریت به حساب آید، هدف مدیریت محسوب می‌گردد؟
 (۱) هدایت (۲) هماهنگی (۳) کنترل (۴) برنامه‌ریزی
- ۱۸۷- طبق نظریه نقشهای مدیری، هر مدیر ناگزیر از ایفای « چه نقشی » است؟
 (۱) ابداعی (۲) تولیدی (۳) اجرایی (۴) ترکیبی
- ۱۸۸- اصل حاکم بر سازمانهای بوروکراتیک، کدام است؟
 (۱) کارایی (۲) آزادمنشی (۳) رأی اکثریت (۴) آزادی اختلاف نظر
- ۱۸۹- عدم حیل تضاد بین هدفها و مأموریت‌های مختلف هر سیستم و یا بین اجزاء تشکیل دهنده آن، « چه پیامدی » برای سیستم دارد؟
 (۱) ایجاد تمایل به نظم (۲) کاهش میزان انرژی (۳) تأمین تداوم حیات (۴) افزایش میزان انرژی
- ۱۹۰- برنامه‌ریزی تاکتیکی، دارای « کدام ویژگی » است؟
 (۱) اهداف کلی (۲) ابعاد متعدد (۳) محیط ثابت (۴) زمان متغیر
- ۱۹۱- طبقه‌بندی بر « چه اساسی » معمولاً به رده‌های میانی به پایین سازمان مربوط می‌شود و هدف از آن ارائه خدمات بیشتر و بهتر به هر یک از گروه‌های خاص اجتماعی است؟
 (۱) محصول (۲) مشتری (۳) ناحیه (۴) اولویت بازار

گروه آموزشی پاسوک فاضلی
 مدرس خصوصی دروس دانشگاهی
 کنکور ارشد - کنکور کارشناسی به کارشناس
 ۰۹۱۲-۳۵۷۱۲۰۴
www.pasokh.org

فاقد « کدام ویژگی » است؟



۱۹۲- شبکه ارتباط در الگوی:

- (۱) سرعت (۲) دقت (۳) رهبری بارز (۴) روحیه عالی
- ۱۹۳- در « چه حالتی » از سطح عرضه و تقاضای نیروی انسانی، می‌توان برای استفاده بهتر از مدیران، با بازنشسته کردن زودرس مدیران قدیمی مؤسسه، از تعداد این دسته از مدیران کاست؟
 (۱) عرضه و تقاضای بالا (۲) عرضه بالا و تقاضای پایین (۳) عرضه و تقاضای پایین (۴) عرضه پایین و تقاضای بالا
- ۱۹۴- در « کدام تئوری »، اگر چه فنون انگیزش می‌توانند مثبت یا منفی باشند؛ اما در جاهایی که تا حد زیادی نیازهای مادی تأمین شده باشد، روش‌های کنترل بیشتر منفی است؟
 (۱) X (۲) Y (۳) نیازهای آشکار (۴) نیازهای مازاد
- ۱۹۵- فرایند کنترل؛ بمنظور انجام کدام مرحله‌ی آن، پیگیری می‌شود؟
 (۱) تعیین شاخص‌ها (۲) اندازه‌گیری عملیات (۳) اقدامات اصلاحی (۴) مقایسه اطلاعات با شاخص‌های پیش‌بینی شده

اقتصاد (خرد و کلان)

- ۱۹۶- موضوع اینکه در جامعه بیشتر بیگاری باشد و یا توزع، به « چه حیطه‌ای » مربوط می‌شود؟
 (۱) اقتصاد دستوری در قلمرو اقتصاد خرد (۲) اقتصاد دستوری در قلمرو اقتصاد کلان
 (۳) اقتصاد اثباتی در قلمرو اقتصاد خرد (۴) اقتصاد اثباتی در قلمرو اقتصاد کلان
- ۱۹۷- تابع عرضه هر یک از ۱۰ تولید کننده نوعی کالا در بازار، همسان و بصورت $P = 2 + Q$ بوده؛ تابع عرضه بازار آن کالا، کدام است؟
 (۱) $q = -20 + 10p$ (۲) $p = 2 + 10q$ (۳) $q = -2 + 10p$ (۴) $p = 20 + 10q$

گروه آموزشی مهندسی فنی
تدریس خصوصی دروس دانشگاهی
کنکور ارشد - کنکور کارشناسی به کارشناسی
۰۹۱۲-۳۵۷۱۲۰۴
www.pasokh.org

۱۹۸- از نظر نموداری؛ اضافه رفاه (و یا مازاد) مصرف کنند، برابر چیست؟

- (۱) سطح محصور بین خط قیمت و مقدار تعادلی و محورهای قیمت و مقدار
- (۲) سطح بالای منحنی عرضه و زیر خط قیمت (تعادلی)
- (۳) سطح محصور بین منحنی‌های عرضه و تقاضا و محورهای قیمت و مقدار
- (۴) سطح زیر منحنی تقاضا و بالای خط قیمت (تعادلی)

۱۹۹- تابع تقاضا بصورت $P_Z = 6 - 2P_X + 2P_Y - P_Z$ و قیمت کالاها: $P_X = 2$ و $P_Y = 3$ و $P_Z = 4$ بوده؛ دو کالای X و Z نسبت به هم « چه رابطهای » دارند؟

- (۱) جانشین
- (۲) مستقل
- (۳) مکمل
- (۴) همگن

۲۰۰- « کدام منحنی »، نمایش نموداری مجموعه سبدهایی از ترکیبات مختلف دو کالا است که مطلوبیت یکسانی را عاید مصرف کننده می‌کند؟

- (۱) بی تفاوتی
- (۲) درآمد - مصرف (ICC)
- (۳) مطلوبیت نهایی
- (۴) قیمت - مصرف (PCC)

۲۰۱- تابع هزینه کل یک مؤسسه بصورت $TC = 100 - 10Q + 4Q^2$ بوده؛ در « چه سطحی از تولید »، هزینه متوسط کل با هزینه نهایی مؤسسه برابر می‌گردد؟

- (۱) ۴
- (۲) ۵
- (۳) ۸
- (۴) ۱۰

۲۰۲- با توجه به تابع تولید بنگاهی بصورت $Q = 12L^2 - L^3 + 2L$ مقدار تولید و L واحد نیروی کار؛ قانون بازده نزولی استخدام، از تولید چند واحد محصول به بعد آغاز می‌شود؟

- (۱) ۸۰
- (۲) ۱۰۰
- (۳) ۱۲۰
- (۴) ۱۴۰

۲۰۳- در بلندمدت برای مؤسسه‌ای که در یک صنعت خاص و در بازار رقابت کامل فعالیت می‌کند؛ « کدام گزینه »، با سایر گزینه‌ها برابر نیست؟

- (۱) LMC (هزینه نهایی بلندمدت)
- (۲) LAC (هزینه متوسط بلندمدت)
- (۳) LTC (هزینه کل بلندمدت)
- (۴) P (قیمت)

۲۰۴- متغیر تزییقی (ورودی) ویژه اقتصاد باز، کدام است؟

- (۱) صادرات (X)
- (۲) مخارج مصرفی (C)
- (۳) واردات (M)
- (۴) مخارج سرمایه‌گذاری (I)

۲۰۵- « درآمد ملی » از نظر عددی، برابر است با:

- (۱) تولید ناخالص ملی به قیمت بازار
- (۲) تولید ناخالص ملی به قیمت عوامل
- (۳) تولید ناخالص ملی به قیمت عوامل
- (۴) تولید ناخالص ملی به قیمت عوامل

۲۰۶- شخصی که ماهیانه ۴۰۰۰۰۰ تومان حقوق دریافت نماید، اگر شاخص قیمتی کالاها و خدمات ۱۲۵ باشد؛ قدرت خرید حقوق واقعی او نسبت به سال پایه، معادل با « چند تومان » است؟

- (۱) ۳۲۰۰۰۰
- (۲) ۳۲۵۰۰۰
- (۳) ۴۲۵۰۰۰
- (۴) ۵۰۰۰۰۰

۲۰۷- در اقتصادی؛ با شرایط درآمد ملی ۱۰۰۰، مخارج مصرفی ۹۵۰ و درآمد ملی ۱۲۰۰، مخارج مصرفی ۱۱۰۰ (واحد: میلیارد تومان) شده؛ پول نهایی به پس‌انداز، « چند درصد » است؟

- (۱) ۱۰
- (۲) ۱۵
- (۳) ۲۰
- (۴) ۲۵

۲۰۸- برای کشوری در یکسال معین؛ مخارج دولتی ۱۰۰، مخارج سرمایه‌گذاری ۱۸۰، مخارج مصرفی مستقل ۳۰۰ (ارقام به میلیارد تومان)، میل نهایی به مصرف ۷۰٪ بازارگانی در حال توازن و بودجه دولت متعادل بوده؛ سطح درآمد ملی پیش‌بینی شده، « چند میلیارد تومان » است؟

- (۱) ۱۶۰۰
- (۲) ۱۷۰۰
- (۳) ۱۸۰۰
- (۴) ۱۹۰۰

۲۰۹- با توجه به ارقام: اسکناس و مسکوکات در دست مردم ۷۰۰، مانده سپرده‌های حساب جاری ۶۰۰، سپرده‌های کوتاه مدت و پس‌انداز ۵۰۰، سپرده‌های بلندمدت ۴۰۰ (میلیارد ریال) و سرعت گردش پول در یکسال معین ۳، « کدام گزینه » درست است؟

(۱) تولید ناخالص ملی ۷۰۰۰

(۲) نقدینگی بخش خصوصی ۱۸۰۰

(۳) حجم پول در گردش ۱۳۰۰

(۴) شبه پول ۱۰۰۰

۲۱۰- سیاست‌های مالی انقباضی دولت:

(۱) در شرایط وجود کمبود تقاضا اعمال می‌شوند.

(۲) شامل کاهش در حجم پول می‌گردد.

(۳) بطور مستقیم بر منحنی LM اثر می‌گذارند.

(۴) شامل افزایش مالیاتها می‌گردد.



گروه آموزشی مهندس فضلی
تدریس خصوصی دروس دانشگاهی
کنکور ارشد - کنکور کاردانی به کارشناسی
۰۹۱۲-۳۵۷۱۲۰۴
www.pasokh.org

گروه آموزشی مهندس فضلی
تدریس خصوصی دروس دانشگاهی
کنکور ارشد - کنکور کاردانی به کارشناسی
۰۹۱۲-۳۵۷۱۲۰۴
www.pasokh.org

گروه آموزشی مهندس فضلی
تدریس خصوصی دروس دانشگاهی
کنکور ارشد - کنکور کاردانی به کارشناسی
۰۹۱۲-۳۵۷۱۲۰۴
www.pasokh.org

بسمه تعالی

أَطْبِرُوا الْعِلْمَ مِنَ الْمَهْدِ إِلَى الْوَحْدِ

زگهواره تا گور دانش بجوی

من امیدوارم که انشاءالله شما آقایان و
سایرین کمک کنید تا این دانشگاهی که
به پیشنهاد آقای هاشمی تأسیس گردید
و پیشنهاد خوبی بود فعالیتش زیاد گردد
و در همه جا توسعه پیدا کند.

[امام خمینی (ره)]



گروه آموزشی مهندس فضلی
تدریس خصوصی، دروس دانشگاهی
کنکور ارشد - کنکور کاردانی به کارشناسی
۰۹۱۲-۳۵۷۱۲۰۴
www.pasokh.org

نام:

نام خانوادگی:

شماره داوطلب:

(دفترچه شماره ۱)

اگثریت

سؤالات عمومی آزمون کارشناسی ناپیوسته سال ۱۳۸۶

مدت پاسخگویی به کل سؤالات این دفترچه ۷۰ دقیقه است.

ردیف	مواد امتحانی	تعداد	از شماره	تا شماره
۱	زبان و ادبیات فارسی	۳۰	۱	۳۰
۲	فرهنگ و معارف اسلامی	۳۰	۳۱	۶۰
۳	زبان انگلیسی	۳۰	۶۱	۹۰

گروه آموزشی مهندس فضلی
تدریس خصوصی دروس دانشگاهی
کنکور ارشد - کنکور کاردانی به کارشناسی
۰۹۱۲-۳۵۷۱۲۰۴
www.pasokh.org

کد ۵

گروه آموزشی مهندس فضلی
تدریس خصوصی دروس دانشگاهی
کنکور ارشد - کنکور کاردانی به کارشناسی
۰۹۱۲-۳۵۷۱۲۰۴
www.pasokh.org

عقظ برای داوطلبانی که زبان خارجه انتخابی آنان انگلیسی است.

در پایان مدت مقرر بلافاصله این دفترچه را کنار صندلی خود فرار داده و سپس دفترچه شماره (۲) را از کنار صندلی خود برداشته و به آن پاسخ دهید.

قیمت ۲۰۰ تومان

گروه آموزشی مهندسی فضایی
تدریس خصوصی دروس دانشگاهی
کنکور ارشد - کنکور کارشناسی به کارشناسی
۰۹۱۲-۳۵۷۱۲۰۴
www.pasokh.org

گروه آموزشی مهندسی فضایی
تدریس خصوصی دروس دانشگاهی
کنکور ارشد - کنکور کارشناسی به کارشناسی
۰۹۱۲-۳۵۷۱۲۰۴
www.pasokh.org

کد (گروه آموزشی مهندسان فن) ۰۹۱۲-۳۵۷۱۲۰۴
www.pasokh.org

زبان و ادبیات فارسی

۱- معنی دو واژه‌ی « طیب و نخوت » در کدام گزینه دقیق‌تر بیان شده است؟

- (۱) پاک بودن، بزرگ‌منشی. (۲) خوش‌دل، خودخواهی. (۳) شادی‌آور، سرمستی. (۴) بوی خوش، خودپرستی

۲- « صرصر » یعنی:

- (۱) تندباد. (۲) خروشیده. (۳) صدای بلند. (۴) بیماری‌زا

۳- در عبارت « پس عبادت اینان به قبول اولی‌تر است که جمع‌اند و حاضر نه پریشان و پراکنده خاطر. »

معنی دقیق‌تر « پریشان » در کدام گزینه آمده است؟

- (۱) بدون حضور قلب. (۲) در غم و افسردگی بودن. (۳) خاطر پراکنده داشتن. (۴) بدون دقت و نگران‌حالی.

۴- در همهی گزینه‌ها بجز گزینه‌ی غلط املائی وجود دارد.

(۱) که سعادت ابدی و دولت صرمدی بدان حاصل شود. (۲) فراق آن است که مال و ملک در دست دارد.

(۳) امیر فرمود: او را از باس و سخط خود امان دادم. (۴) هر که در حال حیاط طاعت نیست، مرده است.

۵- با توجه به معنی املائی کدام واژه درست نیست؟

- (۱) مسطوره: زن پاک دامن. (۲) ذلت‌زده: خوار شده. (۳) هینه: گوارا. (۴) متیقظ: بیدار و هوشیار.

۶- در عبارت « تواریخ گذشتگان را جهت حصص و حظوظ آیندگان در قید تالم کشیدند تا متوجه سیئات محرمات نشوند. »

کدام واژه غلط املائی دارد؟

- (۱) حظوظ. (۲) حصص. (۳) تالم. (۴) سیئات.

۷- این شاعر نامدار قرن سوم و چهارم را پدر شعر فارسی نامیده‌اند، او کیست؟

- (۱) فردوسی. (۲) عنصری. (۳) سعدی. (۴) رودکی.

۸- اسرارالتوحید کتابی عرفانی و تاریخی در شرح احوال و اعمال ابوسعید ابی‌الخیر است. این اثر ماندگار چه قرنی است؟

- (۱) چهارم و پنجم. (۲) سوم و چهارم. (۳) پنجم و ششم. (۴) ششم و هفتم.

۹- می‌توان این شاعر توانمند را نماینده‌ی سبک هندی یا اصفهانی دانست که به خاطر مضمون‌های باریک در غزل شهرت فراوانی

دارد، او کیست؟

- (۱) هاتف اصفهانی. (۲) صائب تبریزی. (۳) کلیم کاشانی. (۴) عبدالرحمن جامی.

۱۰- این قالب شعری بیشتر از مدح و هجاء، رثا و وعظه، شکر و شکایت به تحلیل می‌پردازد و آن قالب است.

- (۱) قصیده. (۲) غزل. (۳) قطعه. (۴) مثنوی.

۱۱- با توجه به بیت زیر قبل و بعد از « که عمرش دراز باد » از چه نشانه‌گذاری یا سجاوندی می‌توان استفاده کرد؟

شکر فروش که عمرش دراز باد چرا / شکر فروشی نکند طسوطی شکرخارا

- (۱) دو ویرگول. (۲) دو گیومه. (۳) دو خط فاصله. (۴) دو نقطه.

۱۲- در مقاله‌ی انتقادی نویسنده باید چون یک قاضی خوب خود را از عواملی که قدرت قضاوت و تشخیص او را تحت تأثیر قرار می‌دهد، حفظ کند. این مطلب جزء کدام ویژگی نقد است؟

- (۱) صداقت. (۲) شجاعت. (۳) انصاف. (۴) بی‌طرفی.

۱۳- هدف و معنی مصراع دوم بیت زیر در کدام گزینه آمده است؟

- (۱) صورنگر زیبایی‌های جهان هستی است. (۲) نقاش آسمان و کره‌ی اثیری است.
(۳) نگارگر هستی و جهان مادی است. (۴) بیان‌کننده‌ی همه‌ی زیبایی و گوهرهاست.

۱۴- در بیت «آنان که محیط فضل و آداب شدند در جمع کمال شمع اصحاب شدند» معنی دقیق‌تر «محیط فضل» در کدام گزینه آمده است؟

- (۱) کامل در دانش. (۲) آگاه به برتری‌ها. (۳) در جایگاه علم قرار گرفتن. (۴) احاطه بر دانش.

۱۵- در بیت «هر که جز ماهی زایش سیر شد هر که بی‌روزی است روزش دیر شد» «روزش دیر شد» یعنی:

- (۱) روز را بد سپری کرد. (۲) از زمان عقب ماند. (۳) بی‌روزی ماند. (۴) به روزی نرسید.

۱۶- مفهوم مصراع اول بیت زیر در کدام گزینه آمده است؟

- «هر که پرهیز و علم و زهد فروخت خرمی گرد کرد و پاک بسوخت»

- (۱) خود را به فضیلت و علم آراستن. (۲) تظاهر به فضیلت‌ها کردن.

- (۳) خودخواه به فضایل شدن. (۴) به فضایل خویش بالیدن.

۱۷- معنی و مفهوم جمله‌ی دوم عبارت زیر در کدام گزینه آمده است؟

- «سفله چون به هتر با کسی برنیاید، به خبشش در پوستین افتد.»

- (۱) از روی پلیدی با او مبارزه می‌کند. (۲) از روی ناچاری با او آرامش نشان دهد.

- (۳) از روی بدبهدادی از او انتقام می‌گیرد. (۴) از روی بدبهدادی از او بدگویی می‌کند.

۱۸- در بیت «سز من از ناله‌ی من دور نیست لیک چشم و گوش را آن نور نیست» مفهوم مناسب‌تر مصراع دوم در کدام گزینه بیان شده است؟

- (۱) ولی هر چشم و گوش‌ی سز دل را در نمی‌یابد. (۲) اما گوش و چشم نوان شناخت چیزی را ندارد.

- (۳) ولی با ظاهر آراسته نمی‌توان باطن را دریافت. (۴) با این گوش و چشم ظاهربین نوری نیست.

۱۹- «فراغت با فاقه نیبوندد و جمعیت در تنگدستی صورت نیندد» جمله‌ی دوم، یعنی:

- (۱) جمع آسودگی خیال با فقر به تصور در نمی‌آید. (۲) آسوده خاطر خبری از فقر و بی‌چیزی ندارد.

- (۳) جمع آسایش و فقر برای هیچ‌کسی امکان ندارد. (۴) انسان آسایش طلب با تنگدستی آشتی نمی‌کند.

۲۰- «که فردا قلم نیست بر بی‌زبان» یعنی:

- (۱) روزگار مسؤولیتی را برای نویسنده‌ی بی‌تعهد تمیین نمی‌کند.

- (۲) روز رساخیز مسؤولیتی متوجه انسان خاموش و کم‌گوی نیست.

- (۳) روز فیامت مسؤولیتی متوجه کران و لالان نخواهد شد.

- (۴) فردای جامعه از بی‌زبان قلم متمهدانه و ارزشمند نمی‌طلبد.



۲۱- « فحش و شتم بر لفظ نگیرد. » یعنی:

- (۱) ناسزا و ناروایی در بیان خود نداشته باشد.
 (۲) حرف خود را با بدی و دشنام همراه و همسان نکند.
 (۳) گفتار خویش را با ناسزاگویی و پستی به پایان نبرد.
 (۴) گفتار بسیار زشت و دشنام در سخن خود نداشته باشد.

۲۲- مفهوم مصراع « به پیش شعر عذیم انگبین هیچ » در کدام گزینه آمده است؟

- (۱) هر شیرینی در برابر شعر زیبایم چیزی نخواهد بود.
 (۲) عسل در برابر شعر پرنغز من هیچ است.
 (۳) شعر پرمحتوای من در برابر شهد شیرین ارزشی ندارد.
 (۴) شهد و زیبایی شعر من برتر از عسل ارزنده خواهد بود.
 ۲۳- « ذمایم اخلاقش به حمائد مبدل گشت. » یعنی:

- (۱) اخلاق ناروا و زشتش به خوی ناباورانه تبدیل گشت.
 (۲) خوی پسندیده‌اش را به اخلاق مورد قبول نزدیک کرد.
 (۳) خلق و خوی نکوهیده‌اش به اخلاق پسندیده تبدیل شد.
 (۴) اخلاق پرارزش خویش را به مردان نیک نزدیک داشت.

۲۴- در بیت « قافیه سنجان که سخن برکشند گنج دو عالم به سخن درکشند », « قافیه سنجان » چه کسانی هستند؟

- (۱) شاعران کامل. (۲) عارفان عامل. (۳) سخنوران نامی. (۴) شاعران غزل‌سرا.

۲۵- مقصود از « سبق » در بیت زیر چیست؟

خوش بخفته نرم ناکرده سبق می‌باید رفت فردا پیش حق

- (۱) حدی از زندگی که به نوعی یک مسابقه است.
 (۲) پیشی‌جستن در زندگی یک مسابقه‌ی بزرگی است.
 (۳) مقداری از کتاب که موجب سرعت عمل می‌شود.
 (۴) مقداری از کتاب که همه روزه آموخته می‌شود.

۲۶- مصراع « خجالت ما زین تقابن ذکر استغفار باد » کدام گزینه را تأیید می‌کند؟

- (۱) طلب بخشش انسان نسبت به شرم و خجالت‌زدگی.
 (۲) توبه انسان نسبت به شرمندگی و زبان‌زدگی.
 (۳) توجه انسان به خاطر شرمندگی و یادآوری.
 (۴) طلب بخشش انسان از خدا برای ناپروری.

۲۷- در شعر « به کجای این شب تیره بیاویزم قبابی ژنده‌ی خود را » مراد از « شب تیره » چیست؟

- (۱) دوره‌ی زور و اربابی. (۲) دوره‌ی خشونت و بی‌خردی. (۳) دوره‌ی استبداد و زورگویی. (۴) دوره‌ی تیره‌روزی ناکاران.

۲۸- در بیت « خدایا به جان خراباتیان کزین تهمت هستیم وا رهان », « خراباتی » یعنی:


- (۱) مرد کاملی که از او مغارف الهیه بی‌اختیار صادر شود.
 (۲) مرد اهل ساوکی که با مغارف الهی آشنایی کامل دارد.
 (۳) مرد صوفی که به این دنیای فانی دل بسته است.
 (۴) مرد عارفی که از عرفان آگاهی لازم دارد.

۲۹- بیت « گرچه سخن خود ننماید جمال پیش پرستنده‌ی منشی خیال » به کدام گزینه دقیق‌تر اشاره دارد؟

- (۱) سخن از چهره‌ی زیبا و خیالی حرف دارد.
 (۲) سخن زیبا در خود رازهای بزرگی دارد.
 (۳) سخن پایه و مایه‌ی زندگی است.
 (۴) سخن مایه‌ی پایداری و مقاومت است.

۳۰- مصراع « کز آن آشت بهره جز دود نیست » یعنی: سخن بیهوده آتشی است که به جای

- (۱) درمان، درد ایجاد می‌کند.
 (۲) روشنی، تپاهی به بار می‌آورد.
 (۳) سودآوری، زبان به بار می‌آورد.
 (۴) قدرت، رنج زیاد ایجاد می‌نماید.



فرهنگ و معارف اسلامی

۲۱- چه عاملی انسان را به کاوش در اسرار کائنات، آثار و خواص آنها سوق می‌دهد؟

- (۱) غریزه (۲) عقل (۳) فطرت (۴) غلبه قلبی

۲۲- شناخت موجودات در کدام علم مبتنی بر فرضیه و آزمون است؟

- (۱) تجربی (۲) عقلی (۳) دینی (۴) قلبی

۲۳- اصول کدام روش شناخت، عام و دربرگیرنده است؟

- (۱) قلبی (۲) فلسفی (۳) علمی (۴) عرفانی

۲۴- جهان‌بینی مطلوب و عالی از ناحیه چه چیزی باید حمایت شود؟

- (۱) تجربه و آزمایش (۲) عقل و منطق (۳) علم و عمل (۴) قلب و دل

۲۵- مهمترین مزیت یک جهان‌بینی چیست؟

- (۱) معنی‌دار کردن حیات (۲) آرمانساز بودن (۳) فایده اثبات بودن (۴) تمهیدآور بودن

۲۶- رابطه دنیا و آخرت مانند چیست؟

- (۱) حمام و پاکیزگی (۲) خانه و زندگی (۳) کودکی و پیری (۴) کشتی و ملوان

۲۷- کدام اصل فلسفی، همواره مورد قبول همه فلاسفه (بجز بعضی از فلاسفه حسی) بوده است؟

- (۱) صدفه (۲) غلبت (۳) تأثیر متقابل (۴) تضاد درونی

۲۸- علتی است که به محض تحقق یافتن آن، معلول ضرورتاً تحقق می‌یابد؟

- (۱) بسیط (۲) فریب (۳) معده (۴) نامه

۲۹- در غلبت حقیقی، وجود معلول به منزله چه چیز وجود علت است؟

- (۱) صفت (۲) قوام (۳) خلاصه (۴) جلوه

۳۰- ترتیب و ادامه علت و معلولها تا بی‌نهایت را می‌گویند؟

- (۱) دور مصرح (۲) دور مضمحل (۳) تسلسل (۴) امکان

۳۱- چه کسی زمان را صورت ذهن انسان دانسته است که همه اشیاء مادی در قالب آن قابل ادراک هستند؟

- (۱) نیوتن (۲) اینشتین (۳) کانت (۴) ارسطو

۳۲- حادث یا قدیم زمانی بودن عالم مورد اختلاف بین چه کسانی است؟

- (۱) فلاسفه و متکلمین (۲) متکلمین و عرفا (۳) عرفا و اخباریون (۴) اخباریون و فلاسفه

۳۳- چه مفهومی نقطه مقابل نظم است؟


- (۱) قضا و قدر (۲) تضاد (۳) سرانوش (۴) حادثه

۳۴- حقیقت تسبیح، ذکر خداوند در برابر چه صفاتی است؟

- (۱) شجوتی (۲) کمال (۳) سلبی (۴) جلال

۳۵- هیوم و همفکران او، چه چیزی را نقضی بر نظم مفعول جهان می‌پندارند؟

- (۱) تضاد و تناقض (۲) تشبیه و تحول (۳) تأثیر متقابل (۴) اقلت و سرور



۴۶- به گفته ارسطو، پیدایش چه حالتی در انسان، باعث می‌شود که او به دنبال تحصیل فلسفه و حکمت برود؟

- (۱) جهل (۲) ناامیدی (۳) شوق (۴) حیرت

۴۷- کدام هدایت، از نوع هدایت اجمالی است؟

- (۱) تشریحی (۲) تکوینی (۳) عقلی (۴) هدایت به امر

۴۸- از صفات ذات خداوندی است؟

- (۱) قدرت (۲) خالقیت (۳) رحمانیت (۴) عدالت

۴۹- فرض کدام محال، متضمن تناقض است؟

- (۱) وقوعی (۲) عادی (۳) ذاتی (۴) عرفی

۵۰- کدام صفت به این معنی است که موجود از میان شقوق و راههای قابل تصور انجام دادن، راهی را که متضمن مصلحت است

برمی‌گزیند؟

- (۱) اختیار (۲) اراده (۳) قدرت (۴) عدالت

۵۱- کدام مرتبه توحید به معنی نفی ثانی داشتن و نفی مثل و مانند داشتن است؟

- (۱) صفاتی (۲) افعالی (۳) عملی (۴) ذاتی

۵۲- قدیمی‌ترین بحث کلامی و عقیدتی در بین مسلمین کدام موضوع است؟

- (۱) صفات خدا (۲) عدل الهی

- (۳) حادث، یا قدیم بودن عالم (۴) حادث یا قدیم بودن قرآن

۵۳- حدیث «بالعدل قامت السموات و الارض» کدام معنی عدل را تداعی می‌کند؟

- (۱) نفی تبعیض (۲) رعایت حقوق افراد (۳) موزون بودن (۴) رعایت استحقاقها

۵۴- چه کسانی به حسن و فبیح عقلی معتقد نیستند و هر کاری را که از خدا صادر شود عین عدالت می‌دانند؟

- (۱) معتزله (۲) اهل حدیث (۳) اشاعره (۴) اخباریون

۵۵- مرگ یا انتقال از این جهان به جهان دیگر را به چه چیزی تشبیه کرده‌اند؟

- (۱) تولد (۲) تفکر (۳) تحول (۴) تناسخ

۵۶- نسبی بودن در مقابل چه صفتی، همه امور ماده و طبیعی چه شر و خیر را شامل می‌شود که وابسته به یک سلسله شرایط

هستند؟

- (۱) حقیقی (۲) مطلق (۳) ذاتی (۴) عارضی

۵۷- علی (ع) خطاب به چه کسی نوشته‌اند «در ناز و نعمت زیستن و از سختی‌ها دوزی گزیدن موجب ضعف و ناتوانی است»؟

- (۱) مالک اشتر (۲) محمدبن ابی بکر (۳) عثمان بن حنیف (۴) سلمان فارسی

۵۸- اراده در وجود حیوان تابع فرمان بلاشرط و مستبدانه چه نیرویی است؟


- (۱) فطرت (۲) عاطفه (۳) احساس (۴) غریزه

۵۹- یکی از دو قطب اصلی معارف قرآن کریم است؟

- (۱) توحید (۲) نبوت (۳) احکام اجتماعی (۴) اراده و اختیار انسان

۶۰- کدام مکتب هر گونه اختیار و آزادی انسان را در مقابل عوامل مادی محیط و جبر تاریخی منتهی می‌داند؟

- (۱) نیهیلیسم (۲) کاپیتالیسم (۳) ماتریالیسم (۴) لیبرالیسم



- 61- We couldn't eat the food. It was hot for us to eat.
1) too 2) such 3) enough 4) so
- 62- The phone rang I was opening the letter.
1) during 2) before 3) after 4) while
- 63- I was having the roof when it happened.
1) to repair 2) repair 3) repaired 4) repairing
- 64- My brother wants to go to university study economics.
1) for 2) to 3) by 4) at
- 65- It began to rain I was waiting for the bus.
1) before 2) while 3) after 4) because
- 66- It's a pity you have to go now. It nice if you had more time.
1) will be 2) would have been 3) would be 4) is
- 67- The man phoned didn't give his name.
1) whom 2) whose 3) which 4) who
- 68- I am looking for my glasses. I can't find them
1) anywhere 2) somewhere 3) everywhere 4) nowhere
- 69- Last summer I went to Rasht and Tabriz. I liked cities very much.
1) both 2) neither 3) either 4) all
- 70- I don't like swimming in cold water.
1) the 2) - 3) some 4) a
- 71- A: Did you see Amir and Ali at the party?
B: Yes, but I didn't speak to
1) themselves 2) theirs 3) them 4) they
- 72- A: What are you tomorrow afternoon?
B: I'm working.
1) making 2) getting 3) taking 4) doing
- 73- Don't forget us a postcard when you're on holiday.
1) sent 2) sending 3) send 4) to send
- 74- A: Why are those policemen outside the bank?
B: a robbery.
1) There will be 2) There has been 3) It is 4) That is
- 75- That bag is too heavy for you. Let me you.
1) helping 2) helped 3) help 4) to help
- 76- My uncle lived in Paris six months. He didn't like it very much.
1) for 2) by 3) in 4) at

گروه آموزشی مهندسی فضایی
تدریس خصوصی دروس دانشگاهی
کتکوار ارنشد - کتکوار کاردانی به کارشناسی
۰۹۱۲-۳۵۷۱۲۰۴
www.pasokh.org

گروه آموزشی مهندسی فضایی
تدریس خصوصی دروس دانشگاهی
کتکوار ارنشد - کتکوار کاردانی به کارشناسی
۰۹۱۲-۳۵۷۱۲۰۴
www.pasokh.org

گروه آموزشی مهندسی فضایی
تدریس خصوصی دروس دانشگاهی
کتکوار ارنشد - کتکوار کاردانی به کارشناسی
۰۹۱۲-۳۵۷۱۲۰۴
www.pasokh.org